



Nome: _____

Ano: _____

Tempo	Início:	Término:	Total:
-------	---------	----------	--------

Edição 28 MMXX

Fase 3

Grupo gama

VIDA ANIMAL

Censo Pet: 139,3 milhões de animais de estimação no Brasil

O Instituto Pet Brasil divulga dados atualizados sobre a população de animais de estimação em todo o território nacional. De acordo com números levantados pelo IBGE e atualizados pela inteligência comercial do Instituto Pet Brasil, em 2018 foram contabilizados no país 54,2 milhões de cães; 39,8 milhões de aves; 23,9 milhões de gatos; 19,1 milhões de peixes e 2,3 milhões de répteis e pequenos mamíferos. A estimativa total chega a 139,3 milhões de animais de estimação. Em 2013, a população pet no Brasil era de cerca de 132,4 milhões de animais, últimos dados disponíveis quando a consulta foi feita pelo IBGE.


O destaque vai para o crescimento de casas que escolhem o gato como animal de estimação. No acumulado, esse foi o animal que mais cresceu, com alta de 8,1% desde 2013. Em seguida, os pets que acumularam maior crescimento nos lares brasileiros foram os peixes com 6,1%. Répteis e pequenos mamíferos registraram alta de 5,7%; aves, 5% e cães, crescimento de 3,8% em sua população. A média geral é de 5,2%.



PÁSSAROS DOMÉSTICOS

Ter um pássaro doméstico em casa é motivo para muitas alegrias. Belos e divertidos, estes pets encantam a todos e são uma ótima companhia. Porém, as aves de estimação apresentam muitas diferenças entre si. Dentre os tipos de pássaros domésticos, é o campeão de popularidade no Brasil. Os periquitos possuem beleza e muita personalidade, além de terem conquistado seu lugar como um dos pets mais amados do mundo. Segundo pesquisas, o periquito é o bichinho de estimação mais escolhido entre as aves domésticas.

Questão 1



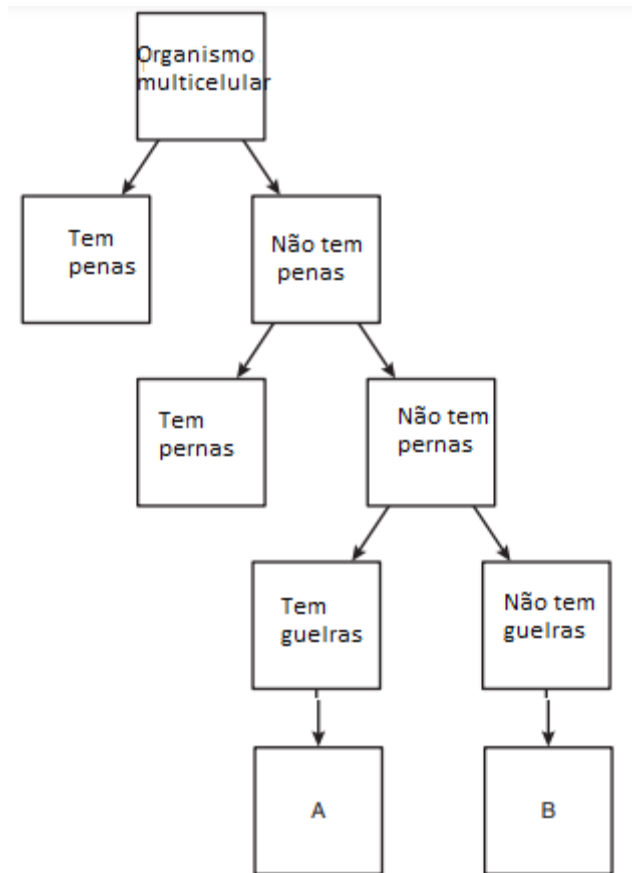
O desenho compara o tamanho de quatro pássaros diferentes. Como você organizaria os pássaros em ordem do menor para o maior?

- (A) cardeal, pardal, corvo, pomba
- (B) Pardal, cardeal, corvo, pomba
- (C) Corvo, cardeal, pomba, pardal
- (D) Pardal, cardeal, pomba, corvo

O nome que se dá a esse tipo de ordem é:

- () crescente
- () decrescente

Questão 2



Qual desses animais pertence ao quadrado A deste fluxograma?

- (A) Pássaro
- (B) Sapo
- (C) Lagarto
- (D) Peixe


Explique a escolha.

AQUARISMO

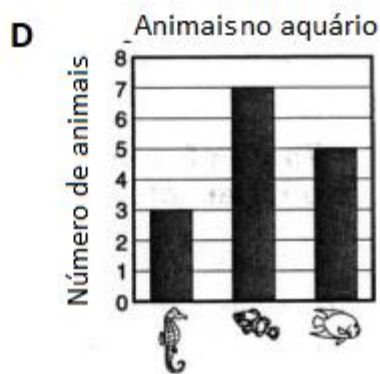
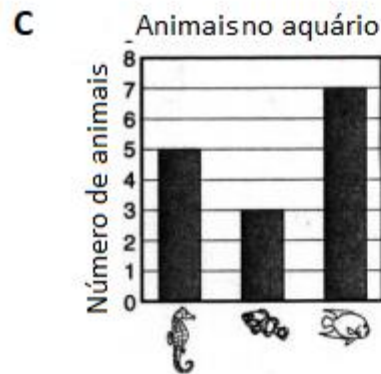
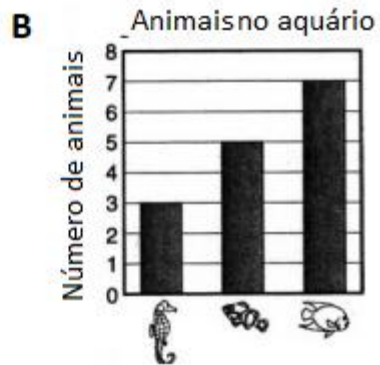
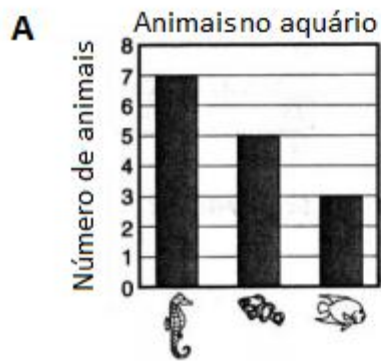
Os aquários são lindos e sempre muito bem-vindos como peça de decoração. Porém, não podemos esquecer que este complexo ambiente é o lar de delicados pets. Os peixes precisam de condições específicas para uma boa qualidade de vida.

Verificar o tamanho do recipiente é importante. Quanto maior, melhor. Mesmo que tenha a intenção de ter um aquário modesto, saiba que peixes gostam de espaço. Não economize na hora de escolher o tamanho de seu aquário.

Questão 3

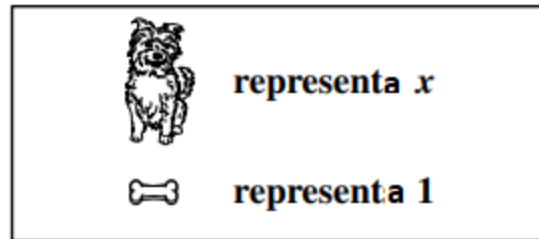



Qual gráfico MELHOR mostra quantos de cada animal estão no tanque?

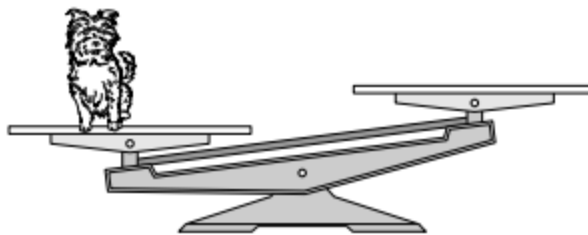



Questão 4

A balança abaixo está equilibrada.

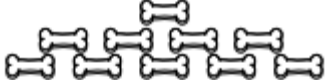


Usando as representações e a balança acima, o que pode ser colocada ao lado direito da balança a seguir para equilibrá-la?



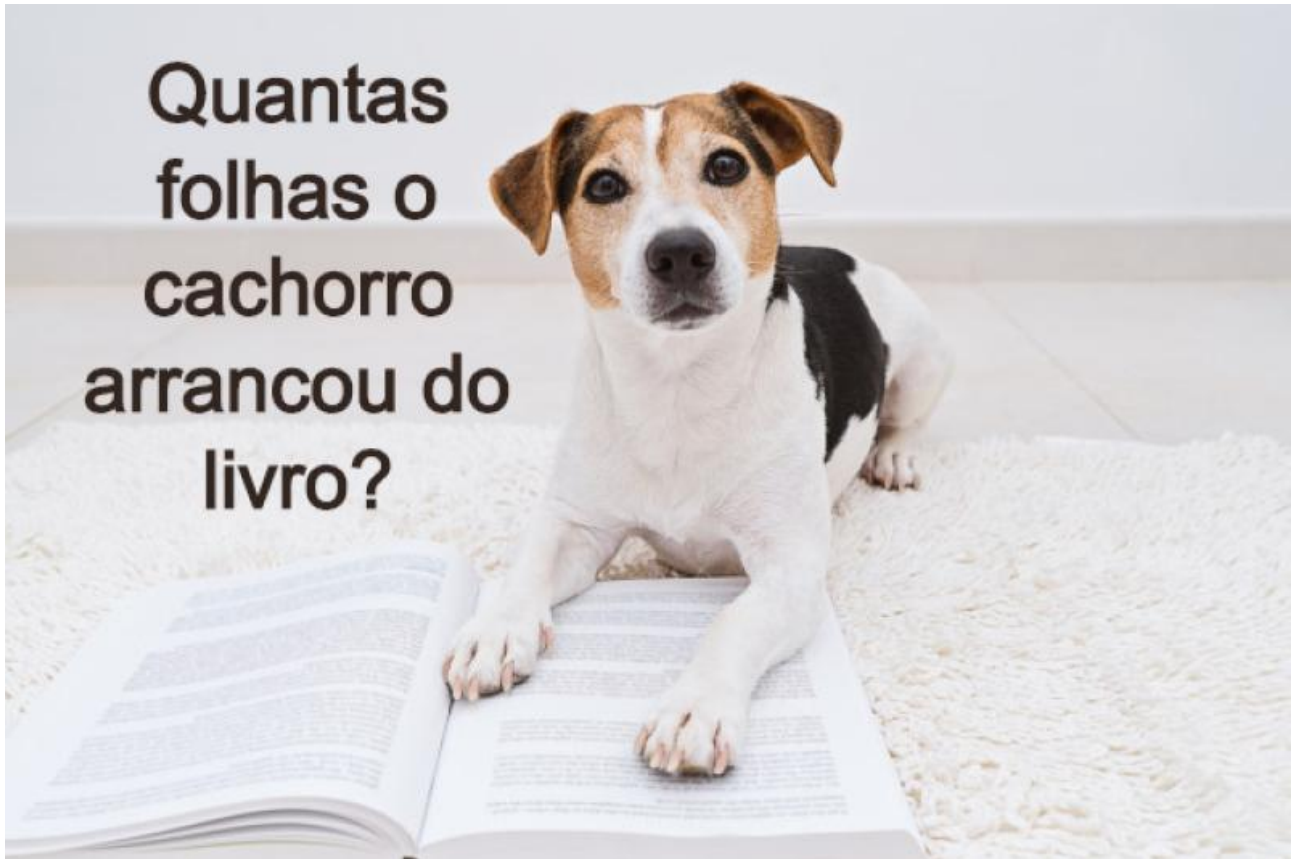
F 

G 

H 

J 

Questão 5



O cachorro arrancou as páginas 7, 8, 100, 101, 222 e 223.

Sabe-se que cada folha tem duas páginas.

O livro começa sempre com a página 1, que é ímpar. O verso da página é um número par.