



Nome: _____

Ano: _____

Tempo	Início:	Término:	Total:
-------	---------	----------	--------

Edição 29 MMXX

Fase 3

Grupo alfa

O DILEMA DA INTERNET

O documentário *The Social Dilemma* (“O Dilema das Redes”, em português) traz discussões sobre o uso das redes sociais e como o consumo desenfreado delas pode ser prejudicial a longo prazo para as pessoas. Uma das redes mais mencionadas é o Facebook, comandado pelo bilionário americano Mark Zuckerberg. Com cerca de 2 bilhões de usuários espalhados no mundo todo, o documentário levou em conta assuntos como as eleições de 2016, os algoritmos da rede social e os dados oferecidos pela empresa a terceiros. Nesta sexta-feira, 2, no entanto, o Facebook respondeu à situação com um arquivo no qual lista sete motivos que fazem com que o documentário tenha errado.

O Facebook complementou que o filme não acerta na questão sobre como os responsáveis pela rede social lidam com fake news e desinformação. De acordo com a publicação, o trabalho para combater isso aumentou pelo último ano. “Removemos mais de 22 milhões de publicações com discurso de ódio, durante o segundo trimestre de 2020, e mais de 94% destas foram encontradas pela denúncia de um usuário – um aumento em relação ao trimestre anterior, quando 88% das 96 milhões de publicações removidas foram denunciadas por usuários”, disse.

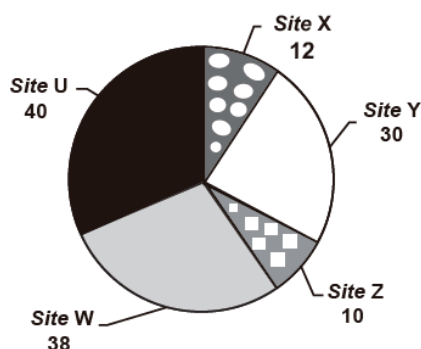
O Facebook reconhece, porém, que suas ferramentas ainda não são perfeitas, mas nega que não esteja trabalhando constantemente em melhorias para tornar a rede social um lugar seguro para os usuários.

(leia mais em: <https://exame.com/tecnologia/facebook-rebate-criticas-feitas-em-o-dilema-das-redes-da-netflix/>)

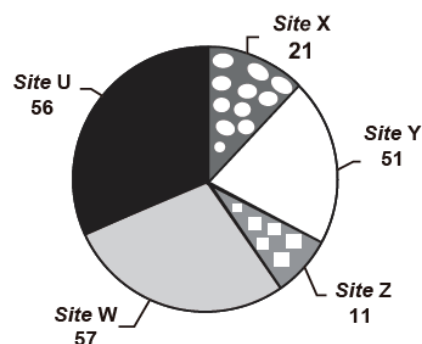
Questão 1

Quanto tempo você fica conectado à internet? Para responder a essa pergunta foi criado um miniaplicativo de computador que roda na área de trabalho, para gerar automaticamente um gráfico de setores, mapeando o tempo que uma pessoa acessa cinco sites visitados. Em um computador, foi observado que houve um aumento significativo do tempo de acesso da sexta-feira para o sábado, nos cinco sites mais acessados. A seguir, temos os dados do miniaplicativo para esses dias.

Tempo de acesso na sexta-feira (minuto)



Tempo de acesso no sábado (minuto)

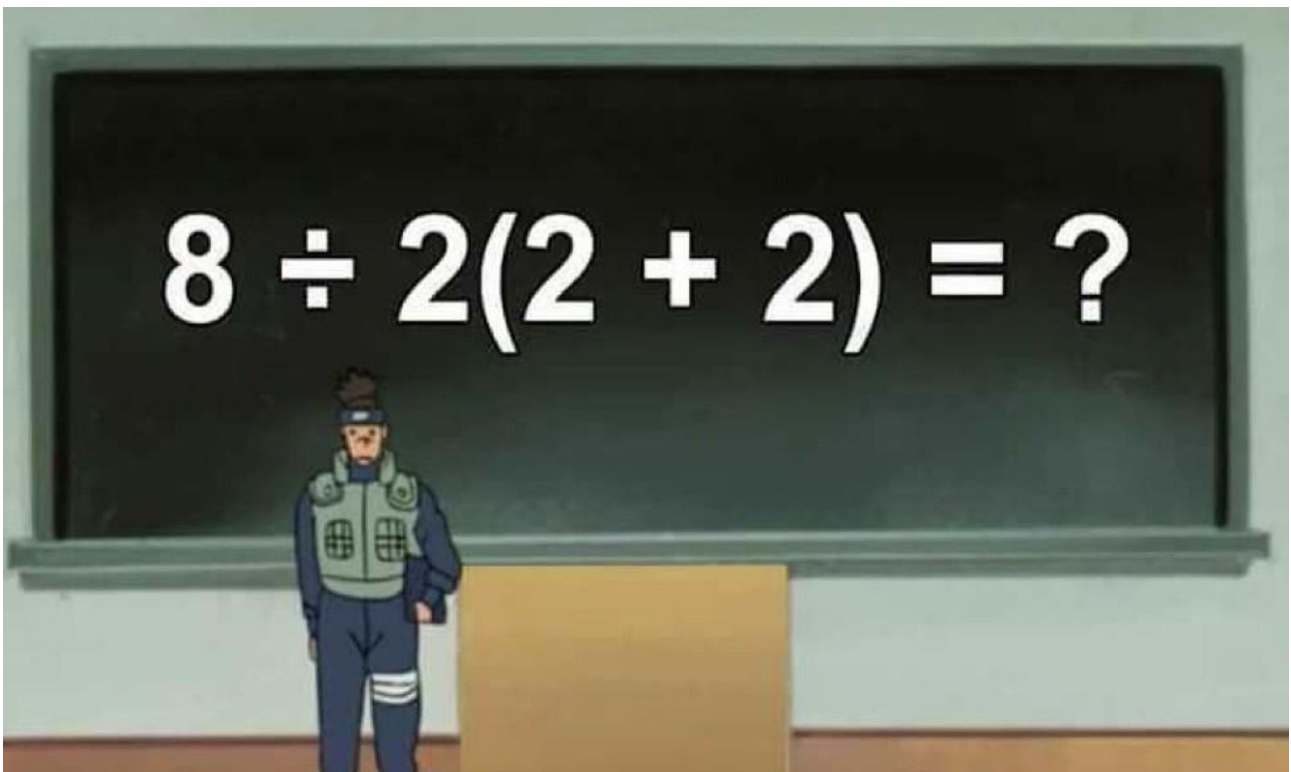


Analisando os gráficos do computador, a maior taxa de aumento no tempo de acesso, da sexta-feira para o sábado, foi no site

- (A) X.
- (B) Y.
- (C) Z.
- (D) W.
- (E) U.

Mostre aqui como você pensou.

Questão 2



Quanto é $8 \div 2(2+2)$? Equação circula na Internet e confunde usuários

Problema matemático postado no Twitter teria dois resultados distintos

Por Ana Letícia Loubak, para o TechTudo,

Uma equação publicada no Twitter está confundindo muitos usuários da rede social quanto à resposta certa. Aparentemente, o problema matemático " $8 \div 2(2+2)$ " teria dois resultados, dependendo da ordem de resolução das operações. O post que originou a "confusão" teve mais de três mil compartilhamentos e 13 mil likes - até a publicação desta matéria. As respostas ao desafio, por sua vez, ultrapassam os 14 mil tweets. Matemáticos, físicos e leigos do Brasil e de outros países disputam para provar seus pontos de vista.

Apresente a sua forma de resolver a equação, mostrando o seu pensamento passo a passo.

Questão 3

Vida social sem internet?



Disponível em: <http://tv-video-edc.blogspot.com>. Acesso em: 30 maio 2010.

A charge revela uma crítica aos meios de comunicação, em especial à internet, porque

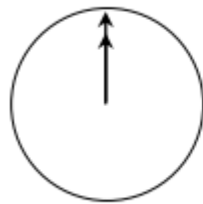
- A) questiona a integração das pessoas nas redes virtuais de relacionamento.
- B) considera as relações sociais como menos importantes que as virtuais.
- C) enaltece a pretensão do homem de estar em todos os lugares ao mesmo tempo.
- D) descreve com precisão as sociedades humanas no mundo globalizado.
- E) concebe a rede de computadores como o espaço mais eficaz para a construção de relações sociais.

Questão 4

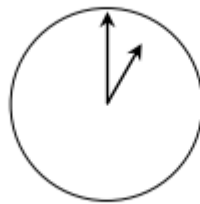
BATE-PAPO PELA INTERNET

Mark (de Sydney, na Austrália) e Hans (de Berlim, na Alemanha) comunicam-se com frequência por meio de uma sala de bate-papo da Internet. Eles precisam conectar-se à Internet, ao mesmo tempo, para poderem bater papo.

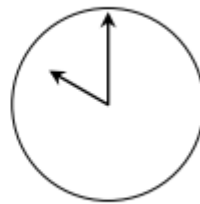
Para determinar um horário apropriado para bater papo, Mark consultou uma tabela de fusos horários do mundo e encontrou o seguinte:



Greenwich 24h



Berlim 1h



Sydney 10h

a) Que horas são em Berlim quando são 19 horas em Sydney?

Resposta:

b) Mark e Hans não podem bater papo das 9h às 16h30 de seus horários locais respectivos, porque eles devem ir para a escola. Além disso, não poderão bater papo entre 23h e 7h porque estarão dormindo.

Qual seria um bom horário para Mark e Hans baterem papo? Escreva os horários locais na tabela abaixo.

Local	Horário
Sydney	
Berlim	

Questão 5

Social Media Word Search

Name: _____

Social Media Word Search

o	a	o	e	l	a	t	i	g	i	d	t	b	d
n	t	t	s	e	r	e	t	n	i	p	w	e	g
l	t	n	o	l	a	s	s	c	s	y	e	y	a
i	u	e	b	i	o	t	w	i	t	t	e	r	t
n	b	m	d	p	a	m	t	i	p	b	t	l	h
e	u	e	e	g	f	o	l	l	o	w	e	r	s
t	m	g	r	c	u	i	d	e	d	l	b	e	a
v	f	a	c	e	b	o	o	k	c	o	u	g	h
i	m	g	n	i	t	e	k	r	a	m	t	g	b
d	a	n	d	l	a	i	c	o	s	o	u	o	u
e	o	e	i	t	s	i	t	w	t	l	o	l	d
o	r	e	l	i	a	b	i	l	i	t	y	b	o
c	y	s	e	t	e	g	d	v	a	g	i	e	r

facebook twitter tweet tumblr social media Instagram
video post blogger credibility reliability digital youtube
followers online engagement podcast marketing pinterest hashtag