



Nome: _____

Ano: _____

Tempo	Início:	Término:	Total:
-------	---------	----------	--------

Edição 30 MMXX

Fase 2/3

Grupo DELTA

PRÊMIO NOBEL

O Prêmio Nobel da Paz deste ano foi concedido ao Programa Mundial de Alimentos das Nações Unidas (PMA), com elogios aos seus esforços para combater a fome no mundo.



Funcionários do Fundo Mundial de Alimentos carregam sacos de comida para distribuição em programa em Pissila, Burkina Faso Anne Minault - 24.jan.2020/Reuters



O órgão da ONU (Organização das Nações Unidas) também foi elogiado por "melhorar as condições para a paz" e prevenir o uso da fome como arma de guerra.

O Comitê do Nobel disse que o trabalho do PMA é "um esforço que todas as nações do mundo deveriam ser capazes de endossar e apoiar". Fundado em 1961, o PMA fornece assistência alimentar a comunidades vulneráveis, especialmente as afetadas pela guerra.

Só no ano passado, o PMA ajudou cerca de 97 milhões de pessoas em 88 países, segundo dados da entidade.

Questão 1

Preencha o quadro com dados sobre o Prêmio Nobel da Paz, retirando a informação necessária dos textos lidos.

Nome do Programa	
Data de início	
Idade	
Prêmio	
Ações realizadas	

Questão 2



Mulheres vencedoras do Prêmio Nobel, com Emmanuelle Charpentier, francesa, e Jennifer Doudna, norte-americana no Nobel de Química, Louise Glück, poeta americana, no Nobel de Literatura, e Andrea Ghez, astrônoma estadunidense, no Nobel de Física –

Leia o que está escrito no retângulo.

o destaque desta semana tem sido as mulheres vencedoras do prêmio nobel com emmanuelle charpentier francesa e jennifer doudna norte-americana no nobel de química andrea ghez astrônoma estadunidense no nobel de física e louise glück poeta americana no nobel de literatura

Reescreva o que acabou de ler, usando corretamente os recursos adequados (parágrafo, pontuação, letra maiúscula/minúscula).

Questão 3

Observe o mapa infográfico sobre a fome mundial na próxima página.

Escreva V se a afirmação for verdadeira ou F se for falsa.

() O Brasil está entre os países com maior índice de pessoas com fome no mundo.

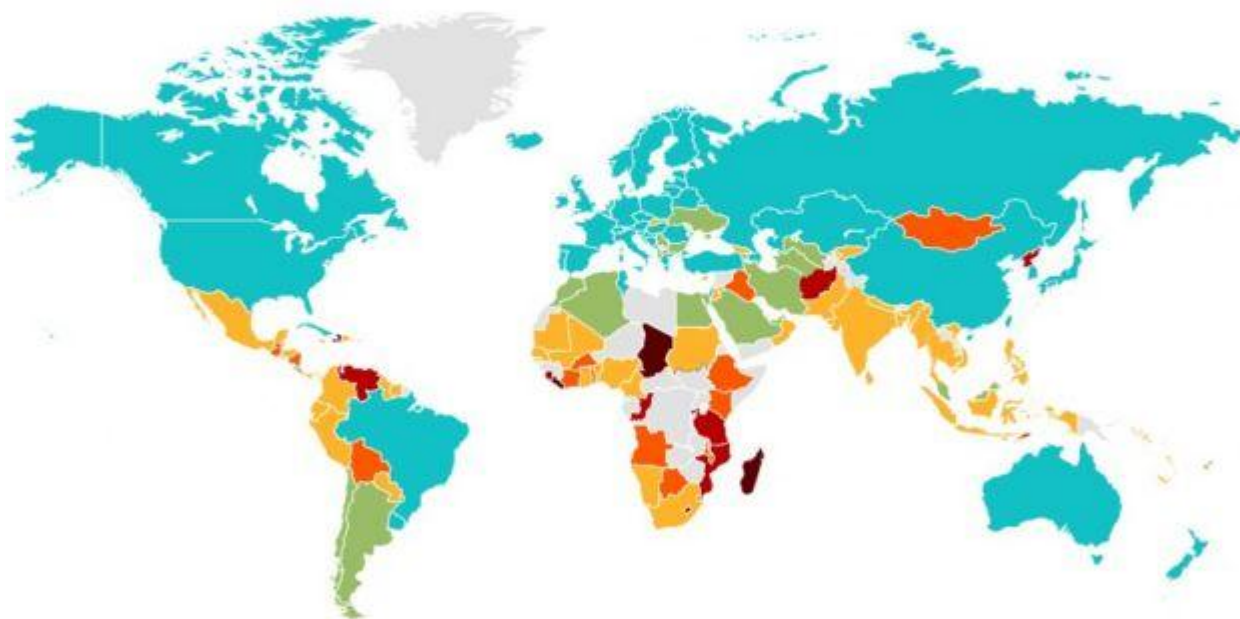
Marquei _____ porque _____

() Os maiores índices de pessoas mal alimentadas está na África.

Marquei _____ porque _____

Qual é a situação da fome no mundo

Prevalência da subalimentação* na população (%)
entre 2017 e 2019



■ Sem dados disponíveis




*Se considera subalimentação ou fome crônica quando o consumo de alimentos de uma pessoa não é suficiente para fornecer os nutrientes necessários para uma vida ativa e saudável.

Fonte: Programa Mundial de Alimentos da ONU

BBC

Questão 4

Observe a imagem, com atenção. Em seguida, escolha a legenda mais adequada à imagem.

A	Crianças coletam grãos que caíram de avião em vilarejo de Ayod, no Sudão do Sul, onde o FMA realiza ação humanitária 9.out.2020, 
B	Alimentos distribuídos pelo Fundo Mundial de Alimentos em Lashio, em Mianmar 9.out.2020, 
C	Funcionários do Fundo Mundial de Alimentos carregam sacos de comida para distribuição em programa em Pissila, Burkina Faso 24.jan.2020† - 



Escolhi a alternativa _____ porque

Questão 5

Observe o gráfico. Em seguida, responda, com frases completas.

a) Qual foi o país que apresentou maior número de vencedores no Nobel de Física entre 1901 a 2020?

.....
.....

b) Cinco países tiveram números iguais de vencedores nesta premiação. Quais foram?


.....
.....

c) O que você deve fazer para saber o número de ganhadores presentes nesta lista?

.....
.....

11 PAÍSES COM MAIOR NÚMERO DE VENCEDORES NO NOBEL DE FÍSICA

1901 – 2020



Source: Nobel Foundation