



Nome: _____

Ano: _____

Tempo	Início:	Término:	Total:
-------	---------	----------	--------

Edição 22

Fase 3

2ºANO

digital


VIDA ANIMAL



PÁSSAROS DOMÉSTICOS

Ter um pássaro doméstico em casa é motivo para muitas alegrias. Belos e divertidos, estes pets encantam a todos e são uma ótima companhia. Porém, as aves de estimação apresentam muitas diferenças entre si. Segundo pesquisas, o periquito é o bichinho de estimação mais escolhido entre as aves domésticas.

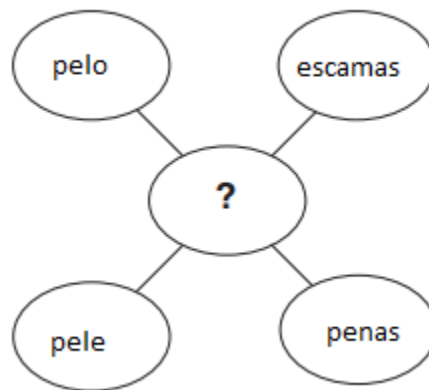
Questão 1



O desenho compara o tamanho de quatro pássaros diferentes. Como você organizaria os pássaros em ordem do menor para o maior?

- (A) cardeal, pardal, corvo, pomba
- (B) Pardal, cardeal, corvo, pomba
- (C) Corvo, cardeal, pomba, pardal
- (D) Pardal, cardeal, pomba, corvo

Questão 2



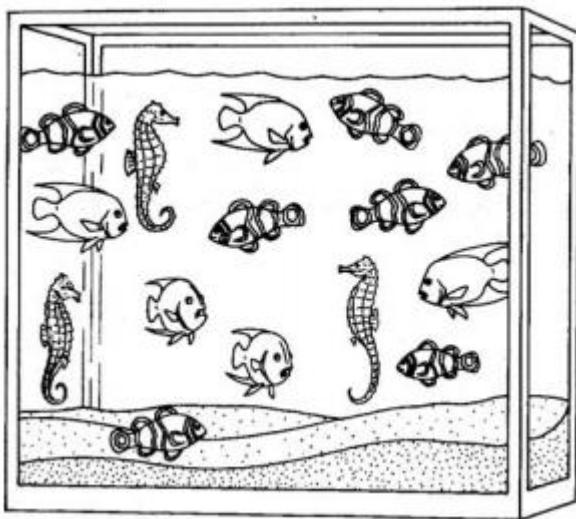
Qual deles pertence ao centro do gráfico?

- (A) Coisas que cobrem os corpos dos animais.
- (B) Coisas que tornam o animal menor.
- (C) Coisas que mantêm os corpos dos animais resfriados.
- (D) Coisas que ajudam os corpos dos animais a obter oxigênio

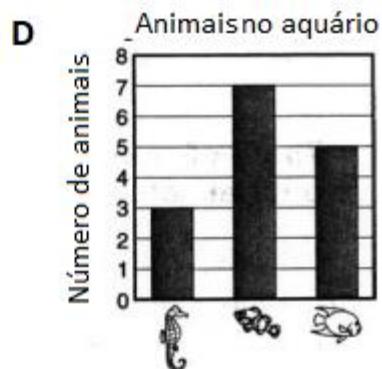
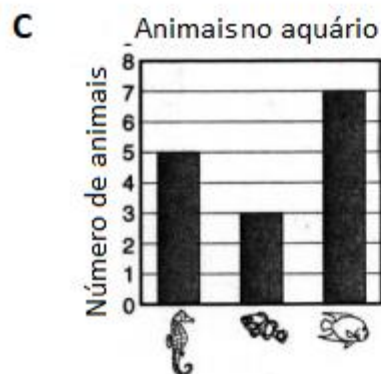
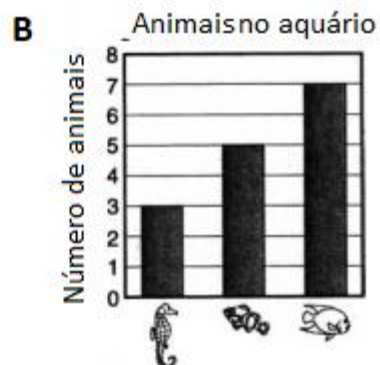
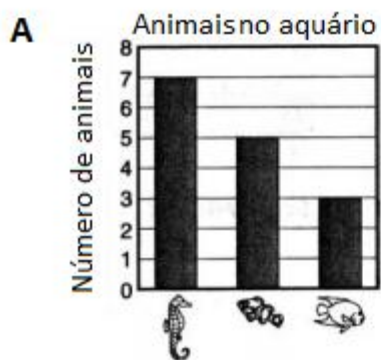
AQUARISMO

Os aquários são lindos e sempre muito bem-vindos como peça de decoração. Porém, não podemos esquecer que este complexo ambiente é o lar de delicados pets. Os peixes precisam de condições específicas para uma boa qualidade de vida.

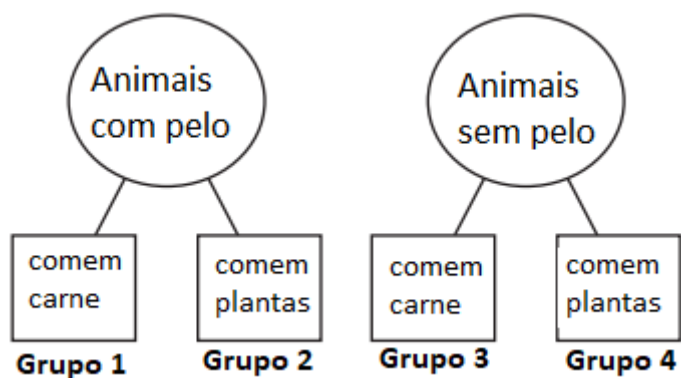
Questão 3



Qual gráfico MELHOR mostra quantos de cada animal estão no tanque?



Questão 4





A que grupo pertence o cachorro?

- (A) Grupo 1
- (B) Grupo 2
- (C) Grupo 3
- (D) Grupo D

Questão 5

Siga o caminho dos números!

			38	24	11	12	13	14	98
			79	57	10	9	6	15	90
			1	2	3	8	7	16	17
31	32	1	34	5	6	7	8	39	18
41	42	2	3	4	46	47	9	20	19
88	26	53	14	13	12	11	22	21	60
61	62	63	15	65	66	67	23	69	70
74	72	73	16	17	18	77			
81	82	83	84	85	19	20			
91	64	93	94	95	96	97			